

Compiti classe V – dal 06 al 18 aprile 2020.

Ciao ragazzi!

Come state? Spero bene.

Sono Maestra Simona, vi scrivo per darvi alcuni suggerimenti sulle attività che potete svolgere nei prossimi giorni.

ITALIANO

1. Continua la lettura del tuo libro e poi una volta terminato, realizza una scheda di lettura del libro che hai letto ispirandoti allo schema che troverai qui sotto. Se riesci invia il lavoro alla mia mail entro il 20 aprile.

GRAMMATICA

1. Guarda i video di maestra Simona sull'apposizione e sull'attributo.
2. Completa gli esercizi delle pag. 105 e 106 del libro di grammatica "Avventure di carta".
3. Guarda i video di maestra Simona sull'analisi logica e sui complementi.
4. Trascrivi e completa sul tuo quaderno la mappa sulla frase minima che troverai qui sotto.
5. Completa pag. 66 eserciziario di italiano ed invia la foto al mio indirizzo mail entro il 18 aprile.
6. Esegui sul tuo quaderno l'analisi logica delle seguenti frasi:
 - Luca ha trovato due funghi vicino al ciglio del sentiero.
 - Il mese scorso Sofia è partita per Londra con la sua amica Lara.
 - Ieri sera il telefono di Stefano ha squillato a lungo.
 - Nel giardino della nonna, in primavera, crescono dei bellissimi fiori.
 - Questo quadro appartiene alla mia famiglia da parecchi anni.
 - Non ho ancora visto la bicicletta nuova di mia cugina.
7. Completa sul quaderno le frasi con un complemento che risponda alle domande scritte tra parentesi:
 - La nonna ha dato (che cosa?)(a chi?)
 - Maria e Laura escono (da dove?) (con chi?)
 - Vado (quando?) (dove?)
 - (quando?) Luca è scivolato (dove?)

- Hai studiato (dove?)(per quanto tempo?)
- I nonni resteranno (dove?) (fino a quando?)
- Ho telefonato (a nchi?) (quando?)

8. Mettiti alla prova svolgendo le attività proposte ai seguenti link:

- <https://learningapps.org/view7133084>
- <https://learningapps.org/view7152321>
- <https://learningapps.org/view1623462>
- <https://learningapps.org/view2587294>
- <https://learningapps.org/view3745146>

MATEMATICA:

1. Riguarda i video della settimana scorsa sullo sconto e l'aumento.
2. Risolvi sul quaderno il problema nr. 1 della scheda che trovi qui sotto e poi invia la foto alla mia mail entro il 18 aprile.
3. Risolvi il problema nr. 2a della scheda.
4. Chi lo desidera ed ha voglia di esercitarsi un po' può risolvere anche i problemi 2b, 2c, 2d.

SCIENZE

1. Leggi con attenzione le pag 224 e 225 del libro di scienze "Nautilus".
2. Completa pag. 85 del quaderno operativo ed invia la foto alla mia mail entro il 18 aprile.

GEOMETRIA

1. Guarda i video che ti ho preparato sul perimetro dei poligoni.
2. Leggi con attenzione pag. 322 del libro "Nautilus" di matematica.
3. Completa es. nr. 1 pag. 322 del libro "Nautilus" di matematica.
4. Esegui i problemi 5a e 5b pag. 323 del libro "Nautilus" di matematica.
5. Esegui l'esercizio nr. 4 a pag. 126 del quaderno operativo di matematica.
6. Esegui l'esercizio nr 1 a pag. 59 eserciziaro di matematica.

7. Svolgi l'attività proposta al seguente link:

- <https://learningapps.org/view9329773>

8. Chi ha voglia di mettersi alla prova può svolgere l'attività proposta al seguente link:

- <https://learningapps.org/view9444271>

Mail: maestra.simona.compiti@gmail.com

Buon lavoro a tutti!

Auguro di cuore una PASQUA SERENA a voi e alle vostre famiglie.

Un abbraccio.

Maestra Simona

SCHEDA DI LETTURA DI UN LIBRO

QUANDO LEGGI UN LIBRO, È UTILE COMPILARE UNA SCHEDA CHE CONTENGA LE INFORMAZIONI PRINCIPALI RELATIVE AL VOLUME. CIO' TI PERMETTERÀ DI CREATI, CON IL TEMPO, UNO SCHEDARIO DI LETTURA E DI CONSIGLIARE CON FACILITÀ AI TUOI AMICI I LIBRI CHE PIÙ TI SONO PIACIUTI.

LEGGI LA STRUTTURA DELA SCHEDA, POI COMPLETALA CON LE INFORMAZIONI RELATIVE AL TUO LIBRO PREFERITO O ALL'ULTIMO CHE HAI LETTO

AUTORE:.....

TITOLO:.....

EDITORE:..... NUMERO DI PAGINE:.....

GENERE:

- AVVENTURA
- REALISTICO
- AUTOBIOGRAFICO
- GIALLO
- FANTASTICO
- INFORMATIVO
- STORICO
- POETICO

CONTIENE:

- PIÙ RACCONTI
- UN SOLO RACCONTO

PROTAGONISTA:.....

PERSONAGGI PRINCIPALI:.....

AMBIENTAZIONE:

- EPOCA.....
- LUOGO.....

TRAMA:.....

.....

.....

.....

GIUDIZIO PERSONALE:

LO CONSIGLIEREI

NON LO CONSIGLIEREI

PERCHÉ:.....

.....

.....

► Completa la mappa.

LA FRASE MINIMA

La frase minima è costituita da:

il

il predicato

dà informazioni sul soggetto.

Può essere di due tipi:

.....

nominale

è costituito da un **verbo** che comunica un significato compiuto.

è costituito da una voce del verbo essere seguita da un aggettivo o da un nome.

il complemento **oggetto**

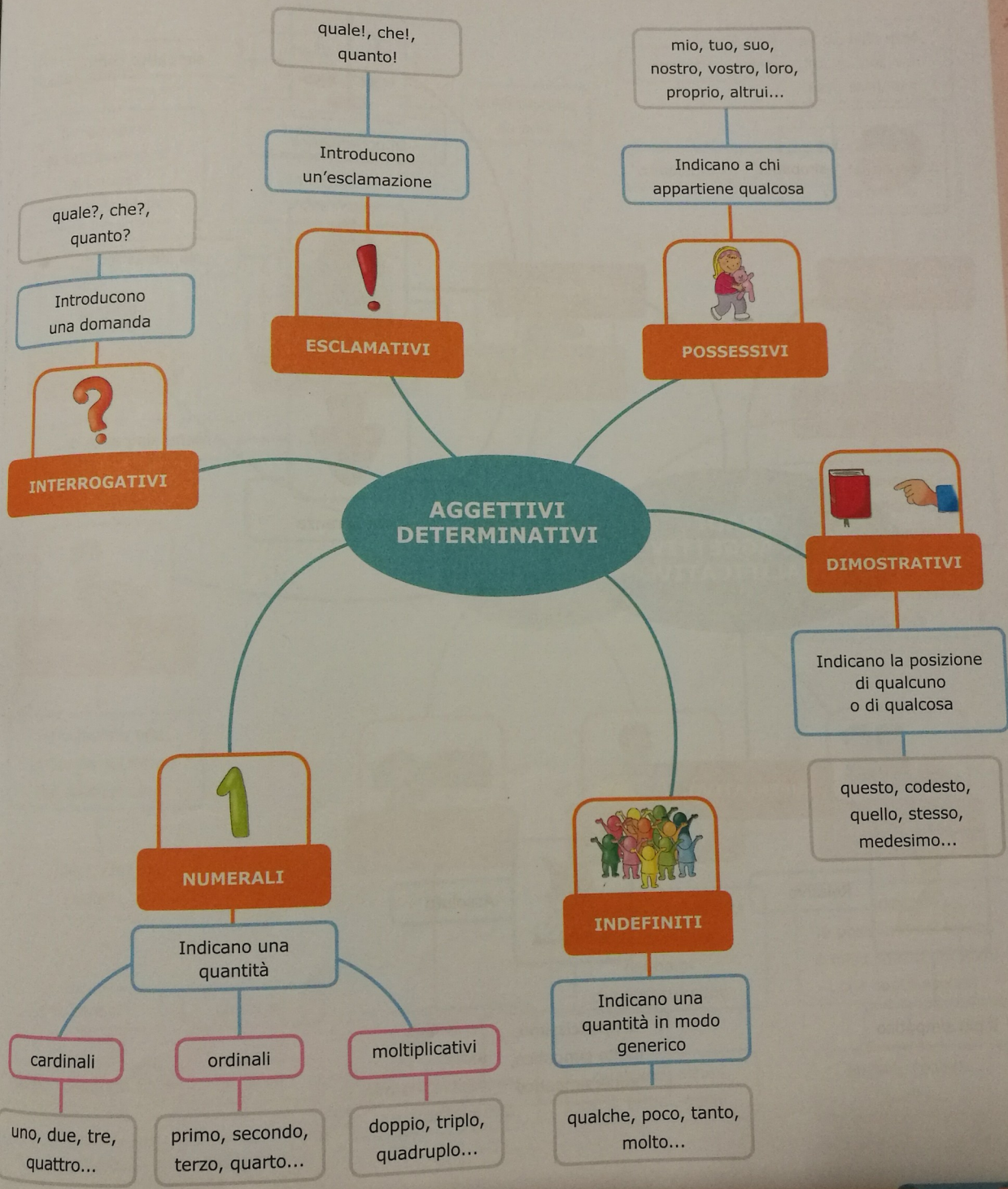
La frase minima può espandersi attraverso

i complementi, tra i quali ad esempio:

- di **compagnia** o di **unione**
(Eso con il cane.)
- di **specificazione**
(Le ali della farfalla sono delicate.)
- di
- (Scrivo una mail a Martina.)
- di
- (Vengo al parco con voi.)
- di
- (Luca arriva tra un'ora.)

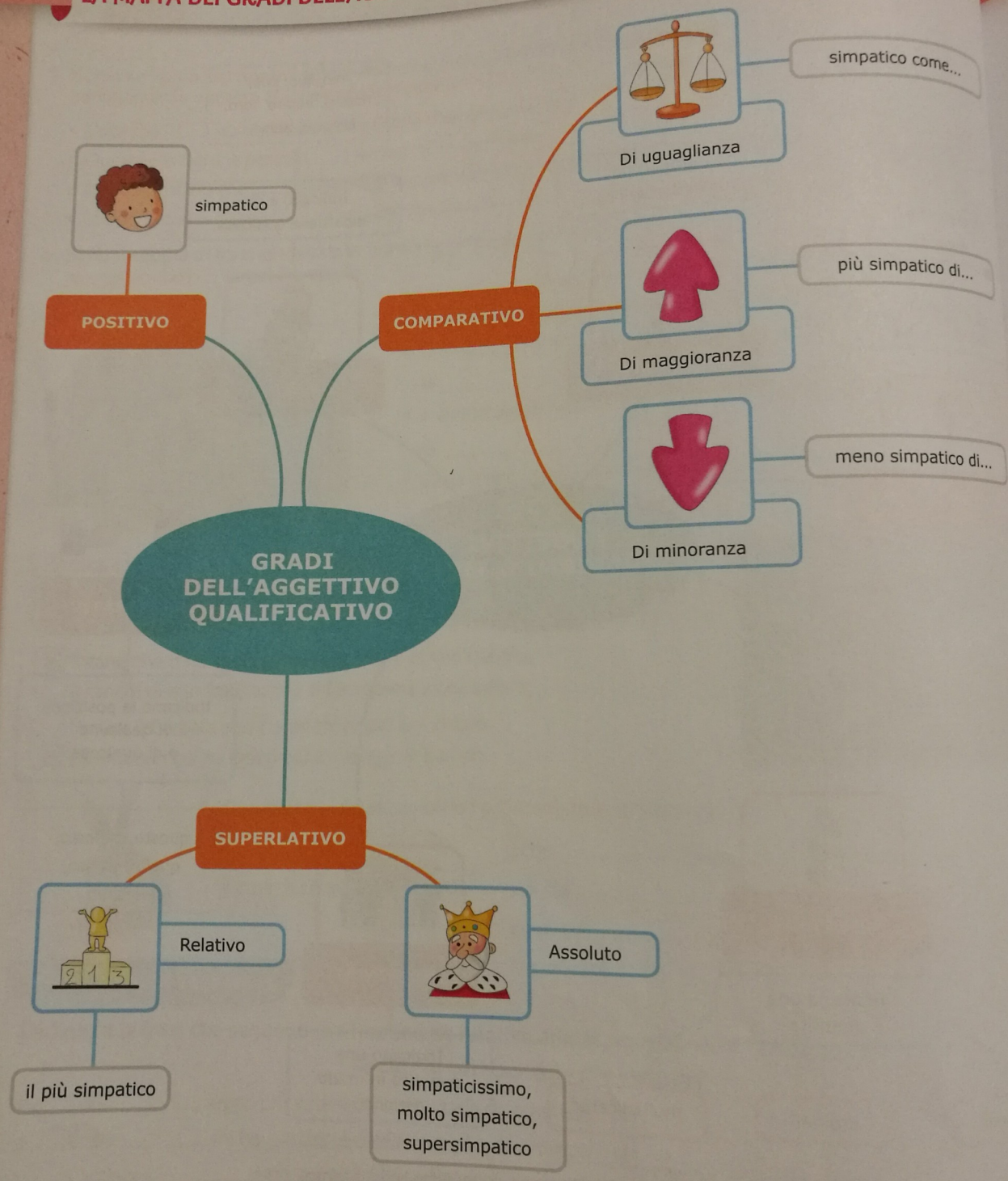
LA MAPPA DEGLI AGGETTIVI DETERMINATIVI

Erickson



LA MAPPA DEI GRADI DELL'AGGETTIVO QUALIFICATIVO

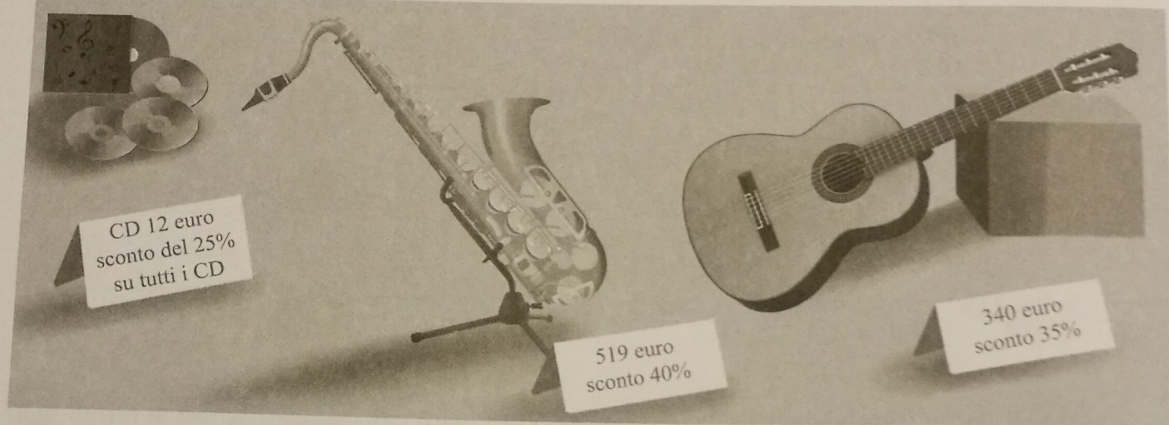
Erickson



Sconti e aumenti

1 Osserva la situazione, esegui sul quaderno i calcoli necessari e rispondi.

Al negozio di articoli musicali stanno praticando dei forti sconti per rinnovo locali. Lorenzo compra la chitarra e 3 CD.



- Quanto spende Lorenzo per la chitarra?
- Quanto spende per i CD?
- Lorenzo paga il tutto con 250 euro.
Quanto riceve di resto?
- Quanto risparmia in totale Lorenzo?

2 Risolvi i seguenti problemi sul quaderno.

- Vittoria compra un dizionario di inglese che ha il prezzo di copertina di € 58,40. Il negoziante le concede uno sconto del 15%. Quanto paga il dizionario Vittoria?
- In un anno il prezzo della benzina è aumentato del 9%. L'anno scorso il papà di Marco per un pieno spendeva € 108,00. Quanto spenderà oggi per il pieno?
- Al supermercato Gloria acquista un fustino di detersivo al prezzo di € 24,00, due flaconi di ammorbidente al prezzo di € 4,50 l'uno e una confezione di acqua minerale a € 2,35. Al momento di pagare la cassiera le dice che solo per oggi i prodotti per la pulizia sono scontati del 25%. Quanto spende in tutto Gloria?
- La stessa felpa viene venduta a € 48,90, con il 20% di sconto in un negozio, mentre in un altro negozio il prezzo pieno è di € 59,50 e lo sconto è del 30%. Convieni comprare la felpa nel primo o nel secondo negozio?

