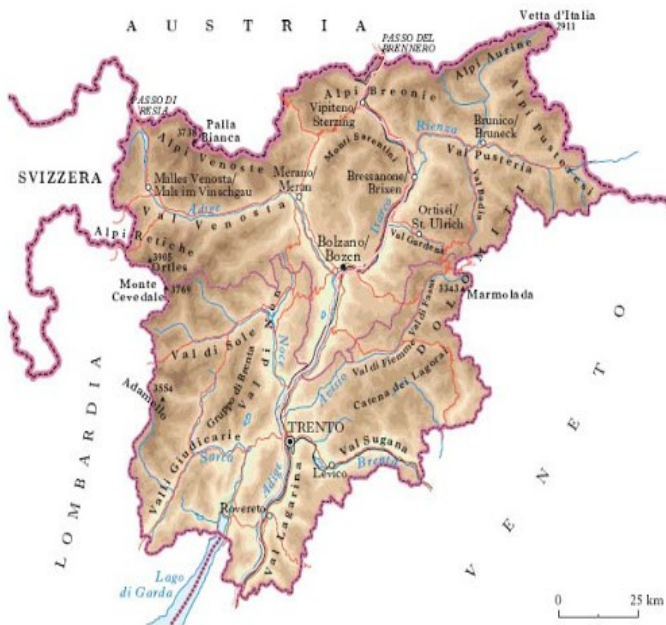


BUONGIORNO E BUON INIZIO SETTIMANA!  
 OGGI PARLEREMO DEL “TRENTINO ALTO ADIGE”, QUINDI:

- VIDEOLEZIONE ;
- LIBRO PAG. 140-141 (ES. “ESPONGO” A VOCE, SOTTOLINEANDO NEL TESTO LE RISPOSTE);
- CARTINA FISICA;
- BANDIERA;
- CARTA D'IDENTITA (cioè dati che riguardano: confini, orografia, idrografia, capoluoghi, settori economici ... la struttura che vi allego ogni settimana);

*“Il Trentino Alto Adige”*



È una regione del:

- Nord Italia     
  Centro Italia     
  Sud Italia

Ha uno statuto.....

Confina a :

NORD con.....

EST con.....

SUD con.....

OVEST con .....

◆ Superficie:.....

Abitanti:..... Densità:.....

Capoluogo:.....

Province:.....

**Territorio:**

(costruisci un grafico ed evidenzia la percentuale di montagna colorandola in marrone, di pianura in verde e di collina in giallo-ocra) VEDI LIBRO

- ◆ Le catene montuose e le vette più elevate sono:.....
- ◆ I Passi .....
- ◆ Le valli.....
- ◆ I fiumi.....
- ◆ I laghi.....
- ◆ Il CLIMA è:.....


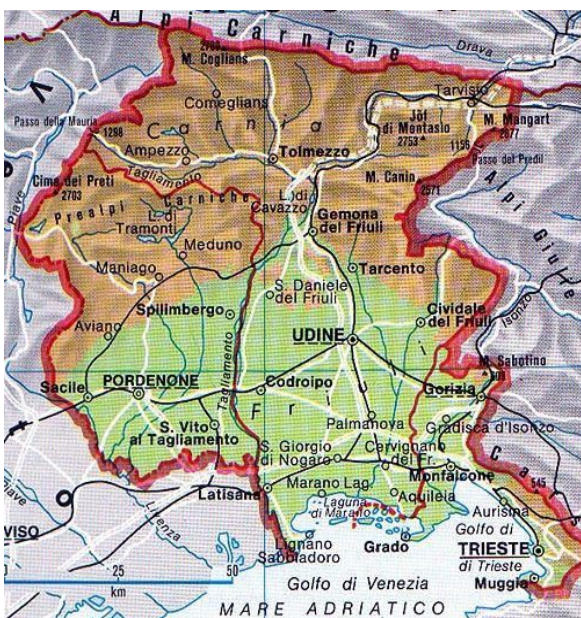
**Attività economiche :**

- ◆ Elenca i principali prodotti realizzati nei vari settori.

PER QUANTO RIGUARDA LA PROSSIMA REGIONE, ACCETTO BEN VOLENTIERI CHI MI VUOL PROPORRE UNA PERSONALE PRESENTAZIONE! IN AGGIUNTA ALLEGO UNO SCHEMA (vedi in fondo) CHE VI SERVIRA' PER COMPRENDERE LE INFORMAZIONI PRINCIPALI:

- LIBRO PAG. 142-143 (ES. "ESPONGO" A VOCE, SOTTOLINEANDO NEL TESTO LE RISPOSTE);

*"Il Friuli -Venezia Giulia"*



È una regione del:

- Nord Italia     
  Centro Italia     
  Sud Italia

Ha uno statuto.....

Confina a :

NORD con.....  
EST con.....  
SUD con.....  
OVEST con .....

◆ Superficie:.....

Abitanti:..... Densità:.....

Capoluogo:.....

Province:.....

**Territorio**:

(costruisci un grafico ed evidenzia la percentuale di montagna colorandola in marrone, di pianura in verde e di collina in giallo-ocra) VEDI LIBRO

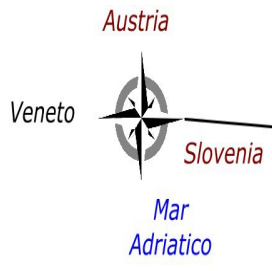
- ◆ Le catene montuose e le vette più elevate sono:.....
- ◆ Altopiano.....
- ◆ Le pianure.....
- ◆ La costa.....
- ◆ I fiumi.....
- ◆ I laghi.....
- ◆ Il CLIMA è:.....  
.....

**Attività economiche** :

- ◆ Elenca i principali prodotti realizzati nei vari settori.

PER CHI AVESSE DIFFICOLTA' NEL REALIZZARE QUANTO RICHIESTO,  
COMPLETARE PAG. 58 e 59 (quad. operativo) e inviare foto (entro il **venerdì 17.4**).

# FRIULI-VENEZIA GIULIA



confini

popolazione  
1,2 milioni

si concentra nelle città e lungo le coste

**Trieste**  
(Capoluogo)

CITTÀ

Gorizia  
Pordenone  
Udine

TERRITORIO

CLIMA

**VENTO:** Bora (fino 150 km/h)  
**mite:** lungo le coste  
**continentale:** interno  
**alpino:** rilievi

regione a **Statuto Speciale**

nord

montuosa

sud

pianeggiante

coste

**Altopiano del Carso**

**Alpi Carniche**  
**Alpi Giulie**

fiumi  
**Isonzo**  
**Tagliamento**

**rocciose**  
vicino a Trieste

**basse e sabbiose**  
Laguna di Marano e Grado

**grotte sotterranee (carsismo)**  
rocce calcaree

ECONOMIA

PRIMARIO

**agricoltura:**  
cereali, frutta, barbabietola da zucch. tabacco, vite per vino

SECONDARIO

**allevamento:**  
bovini, suini → *prosciutto crudo San Daniele*

**industria:**  
vinicola, mobilifici, torrefazione caffè, termomeccanica, cantieri navali

TERZIARIO

**turismo:**  
- città d'arte  
- balneare

assicurazioni, banche



Prosciutto San Daniele

